








































Mit dieser Aufgabe trainieren Sie Ihr logisches Denken und Ihre Denkflexibilität.

Zeichnen Sie die fehlenden Formen ein! Jede Form soll nur einmal in jeder Spalte und in jeder Zeile gezeichnet werden.







				
				
				
				
				

LÖSUNG





































				
				
				
				
				

Mit dieser Aufgabe trainieren Sie Ihr logisches Denken und Ihre Denkflexibilität.

Zeichnen Sie die Formen so in das Raster ein, dass jede Form nur einmal in jeder Spalte und in jeder Zeile dargestellt wird.





					





LÖSUNG





					
					
					
					
					
					




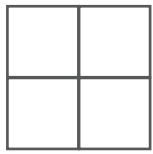
Mit dieser Aufgabe trainieren Sie Ihr logisches Denken und Ihre Denkfähigkeit.

Welche der Kombinationen A bis D setzt die obere Reihe fort?

 <p>A</p>	 <p>B</p>	 <p>C</p>	 <p>D</p>
---	---	---	---

			
---	---	---	---

 <p>A</p>	 <p>B</p>	 <p>C</p>	 <p>D</p>
---	---	--	---

			
---	---	---	---

LÖSUNG




























	×	▲	●	■
	▲	◆	☆	☆
	●	■	×	▲
	☆	☆	▲	◆
☆		▲	●	
×		☆	×	
▲		■	☆	
●		◆	▲	
A	B	C	D	

▲	×	●	▲	■	●	×	■
●	■	■	×	×	▲	▲	●
▲	●	×	▲	■	●	×	▲
×	■	■	●	×	▲		
A	B	C	D				





































Mit dieser Aufgabe trainieren Sie Ihr logisches Denken und Ihre Denkflexibilität.

Zeichnen Sie die fehlenden Formen ein!

Jede der 9 Formen soll (wie im linken oberen Raster) in den übrigen 3 Rastern vorkommen und darf im gesamten Raster nur in einer Zeile und einer Spalte dargestellt werden.


					
					
					
					
					
					

LÖSUNG

Mit dieser Aufgabe trainieren Sie Ihr logisches Denken
 und Ihre Denkflexibilität.

Zeichnen Sie die fehlenden Formen ein!



LÖSUNG

■	★	●	✕	◆	✦	⬡	▲	■	★	●	✕	◆	✦	⬡	▲
▲	■	★	●	✕	◆	✦	⬡	▲	■	★	●	✕	◆	✦	⬡
✦	⬡	▲	■	★	●	✕	◆	✦	⬡	▲	■	★	●	✕	◆
●	✕	◆	✦	⬡	▲	■	★	●	✕	◆	✦	⬡	▲	■	★
⬡	▲	■	★	●	✕	◆	✦	⬡	▲	■	★	●	✕	◆	✦
★	●	✕	◆	✦	⬡	▲	■	★	●	✕	◆	✦	⬡	▲	■
■	★	●	✕	◆	✦	⬡	▲	□	☆	○	✕	◇	✦	⬡	▲
▲	■	★	●	✕	◆	✦	⬡	△	□	☆	○	✕	◇	✦	⬡
✦	⬡	▲	■	★	●	✕	◆	✦	⬡	△	□	☆	●	✕	◆
●	✕	◆	✦	⬡	▲	■	★	○	✕	◇	✦	⬡	▲	■	★
⬡	▲	■	★	●	✕	◆	✦	⬡	△	□	☆	○	✕	◇	✦
★	●	✕	◆	✦	⬡	▲	■	★	●	✕	◆	✦	⬡	▲	■
■	★	●	✕	◆	✦	⬡	▲	■	★	●	✕	◆	✦	⬡	▲
▲	■	★	●	✕	◆	✦	⬡	▲	■	★	●	✕	◆	✦	⬡
✦	⬡	▲	■	★	●	✕	◆	✦	⬡	▲	■	★	●	✕	◆
●	✕	◆	✦	⬡	▲	■	★	●	✕	◆	✦	⬡	▲	■	★